
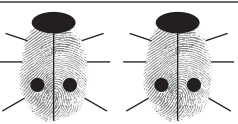


## DIE KÄFERFAMILIE WÄCHST UND WÄCHST

Füge immer einen Fingerabdruck dazu und lasse die Käferfamilie wachsen.  
Am Schluss kannst du den Käfern auch die entsprechende Anzahl Punkte aufmalen.  
(1 Käfer = 1 Punkt, 2 Käfer = 2 Punkte auf jedem Käfer etc.)

1	
2	
3	
4	
5	
6	
7	
8	
9	
10	







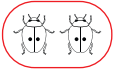
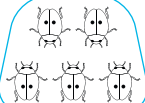
Ich kann im Zahlenraum  
1-10 vorwärts zählen und  
Zahlengruppen bilden.



## KÄFER-GENIE

Löse die Aufgaben im Kasten.



	Wie viele Käfer zählst du? _____
..	Wie viele Punkte zählst du? _____
	Umkreise die Käfer mit einer Farbe zu 2er-Gruppen. Wie viele Gruppen gibt es? _____
	Umkreise die Käfer mit einer Farbe zu 5er-Gruppen. Wie viele Gruppen gibt es? _____


Ich kann Zahlen im Zahlenraum von 1-10 verdoppeln.

## PUNKTE VERDOPPELN




-


Verdopple die Punkte auf dem linken Flügel und schreibe rechts die korrekte Rechnung hin. Zeichne unten eigene Beispiele.




$$\underline{\quad} \cdot \underline{2} = \underline{\quad}$$




$$\underline{\quad} \cdot \underline{2} = \underline{\quad}$$




$$\underline{\quad} \cdot \underline{2} = \underline{\quad}$$




$$\underline{\quad} \cdot \underline{2} = \underline{\quad}$$



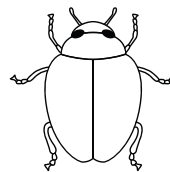
$$\underline{\quad} \cdot \underline{2} = \underline{\quad}$$



$$\underline{\quad} \cdot \underline{2} = \underline{\quad}$$



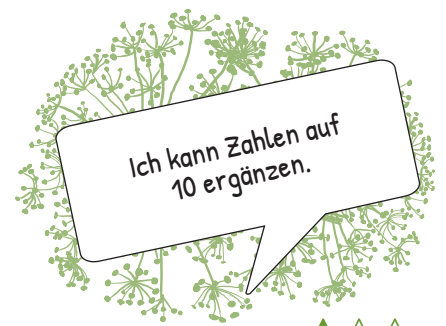
$$\underline{\quad} \cdot \underline{2} = \underline{\quad}$$



$$\underline{\quad} \cdot \underline{2} = \underline{\quad}$$

Decke eine Flügelseite ab und lasse ein anderes Kind die Punktzahl verdoppeln.






## KÄFERPAARE

–

Finde jeweils zwei Käfer, die zusammen 10 ergeben. Male sie mit der gleichen Farbe aus.  
Schreibe die Rechnungen auf.






## DIE BUNTEN MARIENKÄFER 1



Löse die Rechnungen. Male die Käfer dann mit der richtigen Farbe an.

- 1  
  2  
  3  
  4  
  5  
 6  
  7  
  8  
  9  
  10

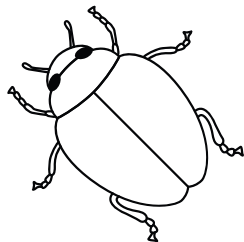


$5 + 3 =$

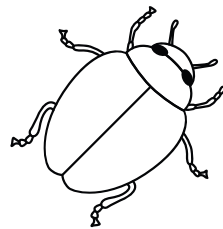
$8 - 2 =$




$8 - 5 =$




$6 - 5 =$



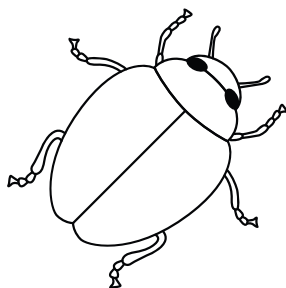
$4 + 5 =$




$10 - 8 =$




$1 + 3 =$



$2 + 4 =$



$3 + 4 =$



$9 - 4 =$



Male das Ergebnis als Punkte auf den Rücken.