

ABENTEUER AMEISE [®]

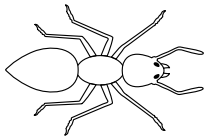


DIE BUNTEN AMEISEN 1





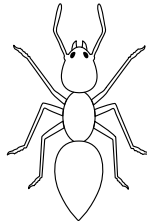
Löse die Rechnungen. Male die Ameisen dann mit der richtigen Farbe an.

- 1 ● 2 ● 3 ● 4 ● 5
● 6 ● 7 ● 8 ● 9 ● 10

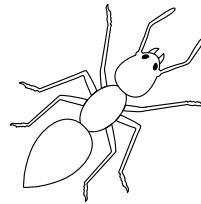


$5 + 3 =$

$8 - 2 =$

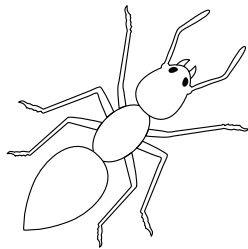


$6 - 5 =$

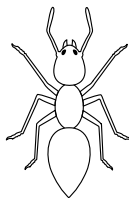


$4 + 5 =$

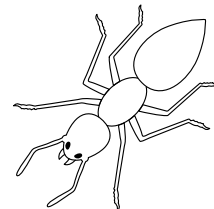
$8 - 5 =$



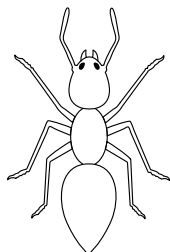
$2 + 4 =$




$10 - 8 =$



$1 + 3 =$



$3 + 4 =$



$9 - 4 =$










ABENTEUER AMEISE [®]












AMEISEN IM ZAHLENGITTER 1

Rechne plus mit den Ameisen.

Addition im 10er-Raum

 +	 2	 3	 4	 5
 2				
 3				
 5				
 4				

Addition im 20er-Raum

 +	 3	 4	 5	 6
 13				
 10				
 14				
 12				


ABENTEUER AMEISE [®]




AMEISEN-GENIE




Löse die Aufgaben im Kasten.



Wie viele Ameisen zählst du? _____



Umkreise die Ameisen mit einer Farbe zu 2er-Gruppen.
Wie viele Gruppen gibt es? _____



Umkreise die Ameisen mit einer Farbe zu 5er-Gruppen.
Wie viele Gruppen gibt es? _____

ABENTEUER AMEISE [®]

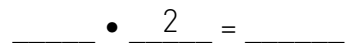
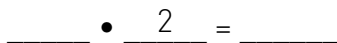
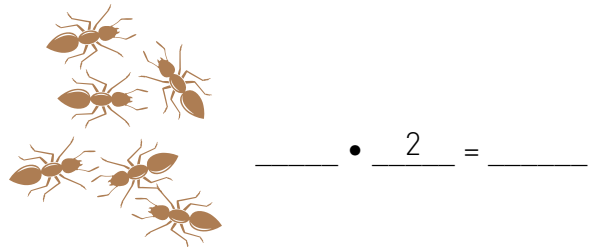
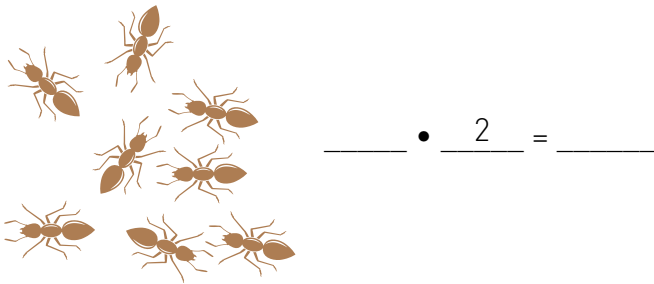
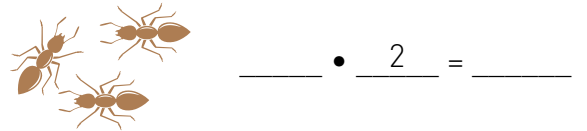
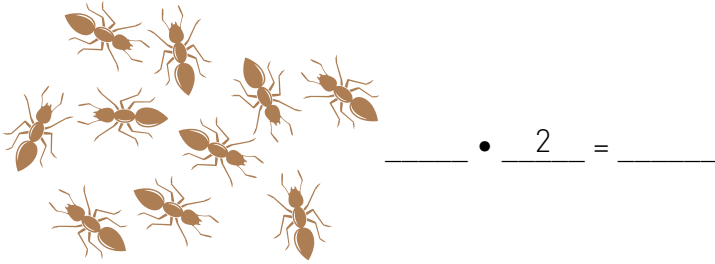
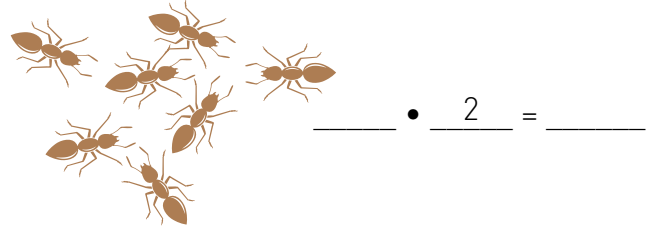
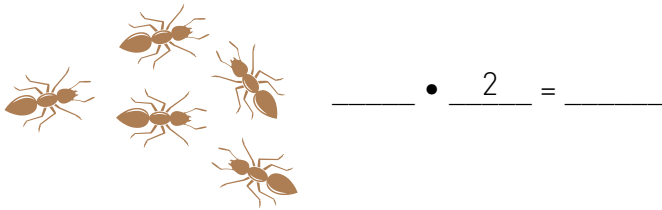


Ich kann Zahlen im Zahlenraum von 1-10 verdoppeln.



PUNKTE VERDOPPELN

Verdopple die Ameisen und schreibe rechts die korrekte Rechnung hin.
Zeichne unten eigene Beispiele.



Decke eine Ameisengruppe ab und lasse ein anderes Kind die Anzahl verdoppeln.



ABENTEUER AMEISE [®]



AMEISENPAARE



Finde jeweils zwei Ameisengruppen, die zusammen 10 ergeben.
Umkreise sie mit der gleichen Farbe. Schreibe die Rechnungen auf.

